

Matematica





**Fie cât o fi de cald,
Am eu unde să mă scald,
Căci îndată – țup! – în lac
Și încep să cânt: Oac!
Oac!**

Cine seamăna culege

Vă provoc să scrieți
o dictare
matematică.
Vă amintiți pașii de
succes?




Pași de succes:

**1. Ascult
atent
sarcina.**

**2. Aleg
operația
potrivită.**

**3. Calculez
în minte.**

**4. Scriu
rezultatul
corect.**




Dictare matematică:

1. Află suma numerelor 37 și 20;
2. Află diferența numerelor 85 și 24;
3. Mărește cu 13 numărul 32;
4. Micșorează numărul 88 cu 42;
5. Descăzutul este 68, scăzătorul e 31.
Află diferența.



Verifică și corectează, dacă ai greșit: █





57, 61, 45, 46, 37.

Problema 3, pagina 124

Pe lac au înflorit 16 nuferi galbeni și 12 nuferi albi. Cu câți sunt mai mulți nuferi galbeni decât albi?



Schema problemei:

G. ... 16 n.  cu ? n. 

A. ... 12 n.




Rezolvare:

$$16 - 12 = 4 \text{ (n.)}$$

Răspuns: sunt cu 4 nuferi galbeni mai mulți.

Câți nuferi au înflorit în total?

$$16 + 12 = 28$$



Joc „Descoperă numerele!”


$$+ = 20$$


$$+ = 15$$

10

5

**Bravo, copii!
Pentru exersare
vă propun ex. 4
pagina 124.
Succese!**



- * <https://www.tablouri-de-vis.ro/nuferi-pe-lac-20243>
- * <https://www.kanald.ro/10-curiozitati-pe-care-sigur-nu-le-stiai-despre-plante-16701322>
- * <https://www.pinterest.dk/pin/467318898834105549/>
- * https://ru.freepik.com/premium-vector/cartoon-frog-sitting-on-the-leaf_2253748.htm
- * https://ru.freepik.com/premium-vector/cartoon-happy-frog-jumping-on-a-water-lily_3084494.htm
- * <http://freeenglisheverywhere.com.au/index.php/acknowledgements/>